



APRENDO SOBRE LAS MONEDAS

MONEDAS UTILIZADAS EN CHILE 2019

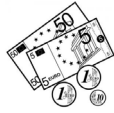


Ilustración de FreePik

Para hacer un trabajo más didáctico les recomiendo utilizar monedas reales para realizar los ejercicios.



VALOR DE LAS MONEDAS



--	--	--	--	--	--	--	--



UNE CADA MONEDA CON SU VALOR:



50 PESOS



100 PESOS



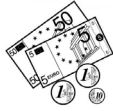
500 PESOS



10 PESOS



VALOR DE LAS MONEDAS

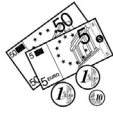


--	--	--	--	--	--	--	--

ESCRIBE EL VALOR DE CADA MONEDA:



VALOR DE LAS MONEDAS



--	--	--	--	--	--	--	--

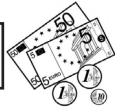


=

UNE CON UNA LÍNEA LAS MONEDAS QUE SON DE IGUAL VALOR:






SUMA LAS MONEDAS

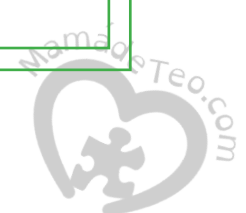


--	--	--	--	--	--	--	--

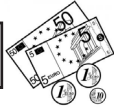
¿CUÁNTO DINERO TENEMOS?
ESCRIBE LAS CANTIDADES Y LUEGO SUMA.

¿CUÁNTO VALE CADA MONEDA?	SUMA LAS MONEDAS:								
 = <input type="text" value="10"/>	<table border="1"><tr><td></td><td><input type="text"/></td></tr><tr><td><input type="text"/></td><td><input type="text"/></td></tr><tr><td colspan="2"><hr/></td></tr><tr><td></td><td><input type="text"/></td></tr></table>		<input type="text"/>	<input type="text"/>	<input type="text"/>	<hr/>			<input type="text"/>
		<input type="text"/>							
<input type="text"/>	<input type="text"/>								
<hr/>									
	<input type="text"/>								
 = <input type="text" value="10"/>									
EN TOTAL TENEMOS: <input type="text" value="20 PESOS"/>									

¿CUÁNTO VALE CADA MONEDA?	SUMA LAS MONEDAS:										
 = <input type="text"/>	<table border="1"><tr><td></td><td><input type="text"/></td></tr><tr><td></td><td><input type="text"/></td></tr><tr><td><input type="text"/></td><td><input type="text"/></td></tr><tr><td colspan="2"><hr/></td></tr><tr><td></td><td><input type="text"/></td></tr></table>		<input type="text"/>		<input type="text"/>	<input type="text"/>	<input type="text"/>	<hr/>			<input type="text"/>
		<input type="text"/>									
		<input type="text"/>									
<input type="text"/>	<input type="text"/>										
<hr/>											
	<input type="text"/>										
 = <input type="text"/>											
 = <input type="text"/>											
EN TOTAL TENEMOS: <input type="text"/>											




SUMA LAS MONEDAS



--	--	--	--	--	--	--

¿CUÁNTO DINERO TENEMOS?
ESCRIBE LAS CANTIDADES Y LUEGO SUMA.

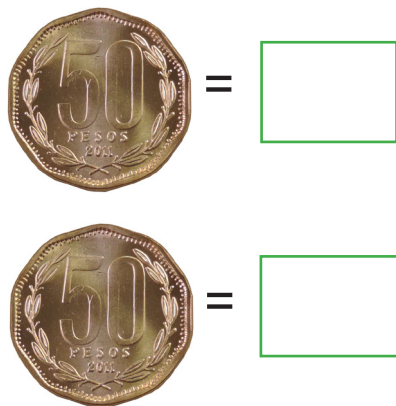
¿CUÁNTO VALE CADA MONEDA?



SUMA LAS MONEDAS:


EN TOTAL TENEMOS: _____

¿CUÁNTO VALE CADA MONEDA?




SUMA LAS MONEDAS:

EN TOTAL TENEMOS: _____



MULTIPLICA LAS MONEDAS



- MULTIPLICA LAS MONEDAS Y CALCULA CUANTO DINERO TENEMOS.
- UTILIZA LAS MONEDAS DE TU ESTUCHE.



¿CUÁNTAS
MONEDAS
HAY?

2

¿CUÁNTO
VALE CADA
MONEDA?

10

¿CUÁNTO
DINERO
HAY?

20

X


=

LEE JUNTO A TU PROFESORA:

2 VECES 10 ES IGUAL A 20



MULTIPLICA LAS MONEDAS



--	--	--	--	--	--

- MULTIPLICA LAS MONEDAS Y CALCULA CUANTO DINERO TENEMOS.
- UTILIZA LAS MONEDAS DE TU ESTUCHE.



¿CUÁNTAS
MONEDAS
HAY?

X

¿CUÁNTO
VALE CADA
MONEDA?

=


¿CUÁNTO
DINERO
HAY?

LEE JUNTO A TU PROFESORA:

3 VECES 10 ES IGUAL A 30



MULTIPLICA LAS MONEDAS



--	--	--	--	--	--

- MULTIPLICA LAS MONEDAS Y CALCULA CUANTO DINERO TENEMOS.
- UTILIZA LAS MONEDAS DE TU ESTUCHE.



¿CUÁNTAS
MONEDAS
HAY?

X

¿CUÁNTO
VALE CADA
MONEDA?

=


¿CUÁNTO
DINERO
HAY?

LEE JUNTO A TU PROFESORA:

4 VECES 10 ES IGUAL A 40



MULTIPLICA LAS MONEDAS



--	--	--	--	--	--

- MULTIPLICA LAS MONEDAS Y CALCULA CUANTO DINERO TENEMOS.
- UTILIZA LAS MONEDAS DE TU ESTUCHE.



¿CUÁNTAS
MONEDAS
HAY?

X

¿CUÁNTO
VALE CADA
MONEDA?

=


¿CUÁNTO
DINERO
HAY?

LEE JUNTO A TU PROFESORA:

5 VECES 10 ES IGUAL A 50



MULTIPLICA LAS MONEDAS



--	--	--	--	--	--

- MULTIPLICA LAS MONEDAS Y CALCULA CUANTO DINERO TENEMOS.
- UTILIZA LAS MONEDAS DE TU ESTUCHE.



¿CUÁNTAS
MONEDAS
HAY?

X

¿CUÁNTO
VALE CADA
MONEDA?

=


¿CUÁNTO
DINERO
HAY?

LEE JUNTO A TU PROFESORA:

6 VECES 10 ES IGUAL A 60



MULTIPLICA LAS MONEDAS



--	--	--	--	--	--

- MULTIPLICA LAS MONEDAS Y CALCULA CUANTO DINERO TENEMOS.
- UTILIZA LAS MONEDAS DE TU ESTUCHE.



¿CUÁNTAS
MONEDAS
HAY?

X

¿CUÁNTO
VALE CADA
MONEDA?

=


¿CUÁNTO
DINERO
HAY?

LEE JUNTO A TU PROFESORA:

7 VECES 10 ES IGUAL A 70



MULTIPLICA LAS MONEDAS



--	--	--	--	--	--

- MULTIPLICA LAS MONEDAS Y CALCULA CUANTO DINERO TENEMOS.
- UTILIZA LAS MONEDAS DE TU ESTUCHE.



¿CUÁNTAS
MONEDAS
HAY?

¿CUÁNTO
VALE CADA
MONEDA?

¿CUÁNTO
DINERO
HAY?

X


=

LEE JUNTO A TU PROFESORA:

8 VECES 10 ES IGUAL A 80



MULTIPLICA LAS MONEDAS



--	--	--	--	--	--

- MULTIPLICA LAS MONEDAS Y CALCULA CUANTO DINERO TENEMOS.
- UTILIZA LAS MONEDAS DE TU ESTUCHE.



¿CUÁNTAS
MONEDAS
HAY?

¿CUÁNTO
VALE CADA
MONEDA?

¿CUÁNTO
DINERO
HAY?

X


=

LEE JUNTO A TU PROFESORA:

9 VECES 10 ES IGUAL A 90



MULTIPLICA LAS MONEDAS



--	--	--	--	--	--

- MULTIPLICA LAS MONEDAS Y CALCULA CUANTO DINERO TENEMOS.
- UTILIZA LAS MONEDAS DE TU ESTUCHE.



¿CUÁNTAS
MONEDAS
HAY?

¿CUÁNTO
VALE CADA
MONEDA?

¿CUÁNTO
DINERO
HAY?

X

=

LEE JUNTO A TU PROFESORA:

10 VECES 10 ES IGUAL A 100

